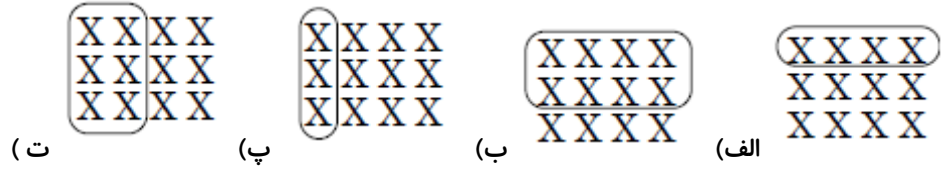
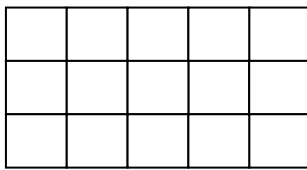


کدام شکل کسر $\frac{1}{3}$ را نشان می دهد .



۱

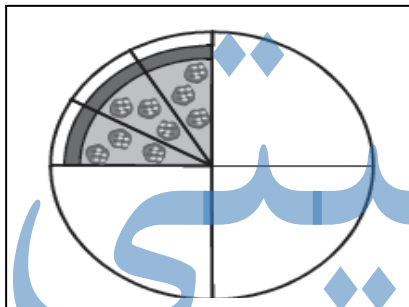
اگر $\frac{1}{5}$ شکل روبه رو را رنگ کنیم . چند مربع رنگ می شود ؟



الف (۳) ب (۱۰) پ (۵) ت (۱۵)

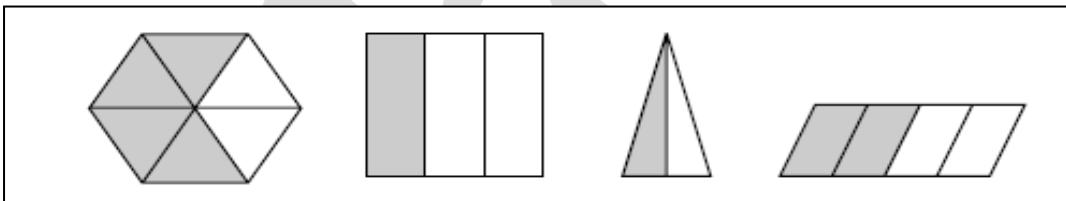
۲

امیر و دوستش رضا پیتزایی را درست کرده و خوردند . شکل زیر مقدار پیتزایی را که باقی مانده است ، نشان می دهد .
چه کسری از پیتزا خورده شده است ؟



۳


شکل های زیر به بخش های مساوی تقسیم شده اند .



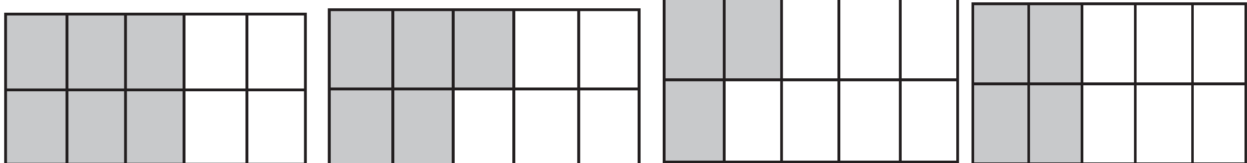
- قسمت رنگی کدام دو شکل کسر های مساوی را نشان می دهند ؟

۴

تعدادی از دایره ها در شکل رنگی شده است .



- در کدام شکل زیر به میزان شکل بالا رنگ آمیزی شده است ؟



ت

پ

ب

الف

۵	<p>در جای خالی کسر مناسب بنویسید.</p> <p>- دو ساعت و ۴۵ دقیقه یعنی ۲ ساعت و از ساعت .</p> <p>- سه متر و ۵۰ سانتی متر یعنی ۳ متر و از متر.</p>
۶	<p>زهرا با دو دخترش سارا و سمیرا کیکی پختند. $\frac{2}{4}$ کیک را سارا خورد. $\frac{1}{4}$ آن را سمیرا خورد.</p> <p>- چه کسری از کیک باقی مانده است؟</p>
۷	<p>آرین ۲۴ شکلات داشت. ربع آن را به دوستش داد. چند شکلات برای او باقی ماند؟</p>
۸	<p>در یک صندوق، ۴ کارت قرمز، ۵ کارت آبی و ۲ کارت سبز داریم.</p> <p>- سؤال: چه کسری از کارت های صندوق، آبی است؟</p>
	<p>موفق باشید. مهدوی</p>